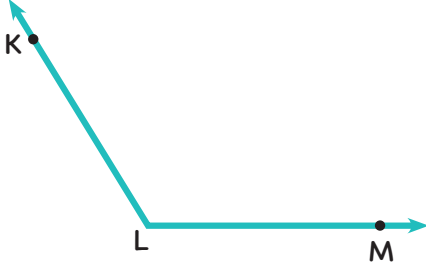


AÇILAR

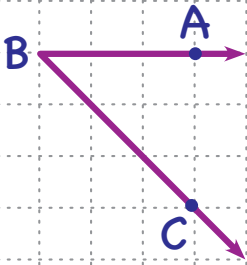
- ◇ Başlangıç noktaları aynı olan iki ışının oluşturduğu şekle denir.
- ◇ Işınlardan ortak noktasına denir.
- ◇ Açı sembolü ile gösterilir.
- ◇ Ölçüleri aynı olan açılara denir.



İMT Hoca

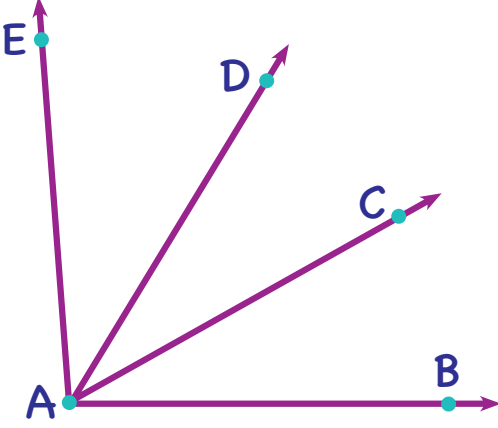
Ortaokul Matematik

EŞ AÇI ÇİZME



KOMŞU AÇILAR

Köşe noktaları ile bir kolları ortak olan ve kolların arasında kalan bölgeleri kesişmeyen açılara denir.

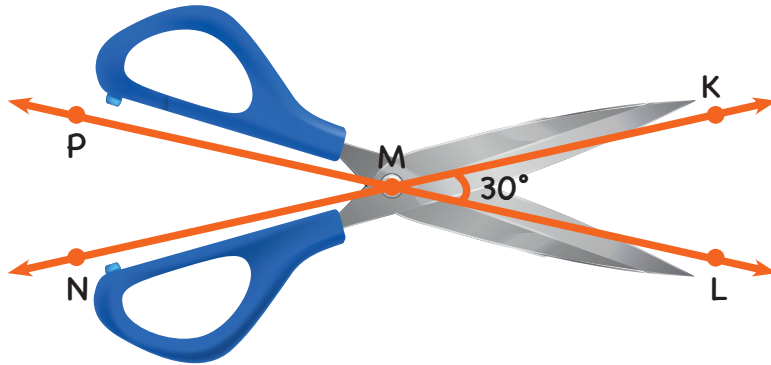


İMT Hoca

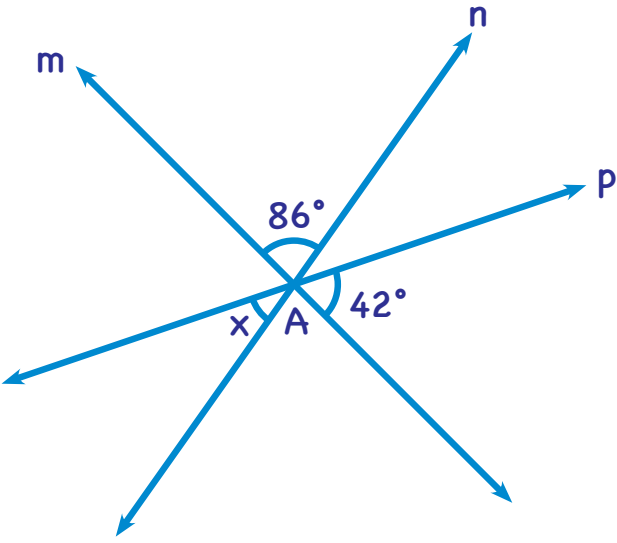
Ortaokul Matematik

TERS AÇILAR

- ◆ Kesişen iki doğrunun oluşturduğu açılardan komşu olmayan ve zıt yönlü olan açılara denir.
- ◆ Ter açılarının ölçüleri birbirine



PEKİŞTİRELİM



m, n ve p doğruları A noktasında kesişmektedir.

$$x = ?$$

İMT Hoca

Ortaokul Matematik

KAT PROBLEMİ

Tümler iki açıdan birinin ölçüsü diğerinin 2 katından 6 eksiktir.

Küçük açının bütünleri kaç derecedir?

SIRA SENDE

6. SINIF İMT Matematik
YENİ NESİL Soru Bankası

Sayfa 139-148

Yapabilirsin!

