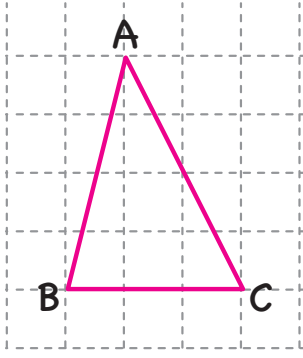
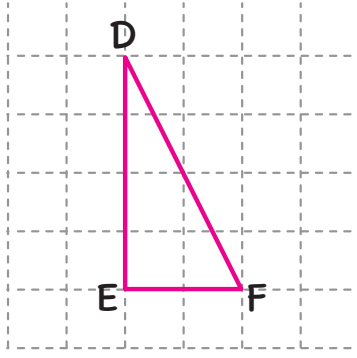


AÇILARINA GÖRE ÜÇGENLER

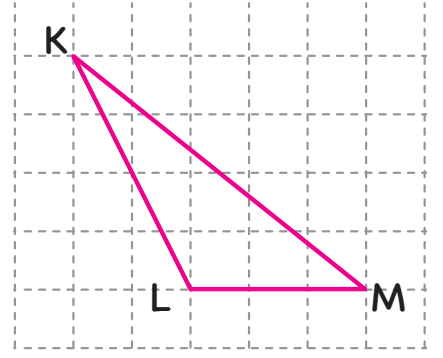
Bütün açılarının ölçüsü 90° 'den küçük olan üçgen



Bir açısının ölçüsü 90° olan üçgen



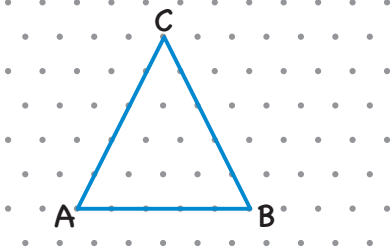
Bir açısının ölçüsü 90° 'den büyük olan üçgen



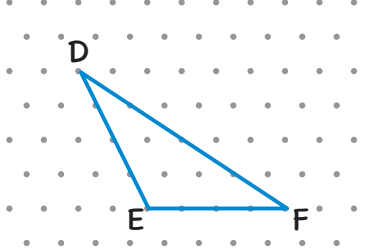
İMT Hoca

KENARLARINA GÖRE ÜÇGENLER

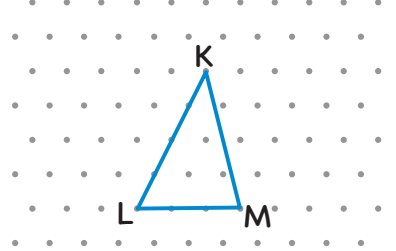
Üç kenar uzunluğu da eşit olan üçgen



İki kenar uzunluğu eşit olan üçgen



Bütün kenar uzunlukları farklı olan üçgen

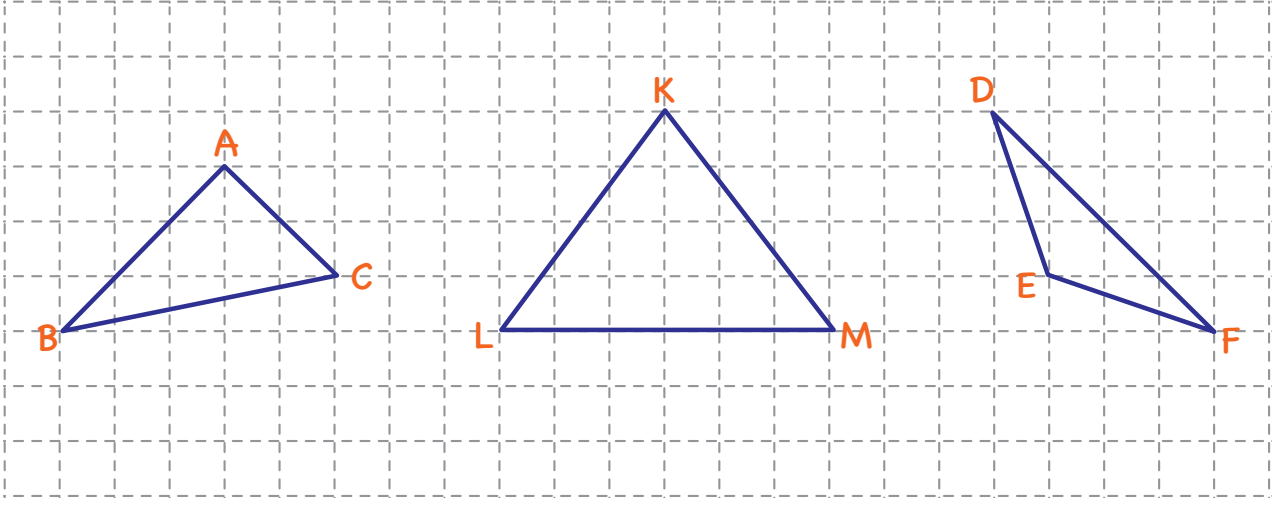


HATIRLATMA

İzometrik kağıt komşu noktaların birbirine uzaklıkta olduğu bir çizme aracıdır.

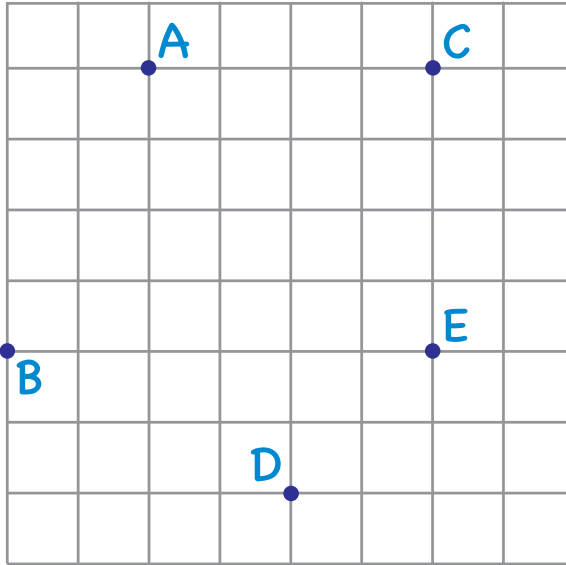
PEKİŞTİRELİM

Kareli kâğıtta verilen üçgenlerin açılarına ve kenarlarına göre çeşitleri yazalım.



İMT Hoca

KENDİMİZ ÇİZELİM



Şekildeki kareli kâğıtta

geniş açılı üçgen

dik açılı üçgen

ikizkenar üçgen

dar açılı üçgen

oluşması için hangi noktaları birleştirmeliyiz?