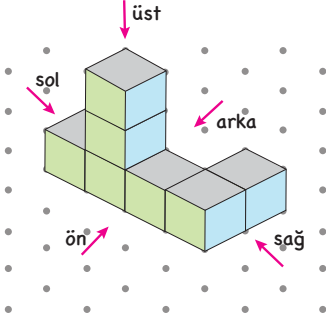


BİR CİSMİN FARKLI YÖNLERDEN GÖRÜNÜMLERİ

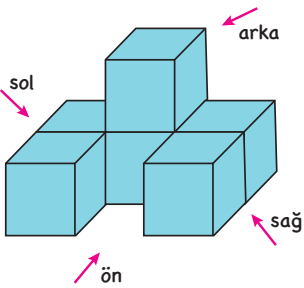


Yanda verilen eş birim küplerden oluşan yapının önden, arkadan, sağdan, soldan ve üstten görünümünü çizelim.

| | | | | |
|---------------|-----------------|----------------|----------------|----------------|
| önden görünüm | arkadan görünüm | sağdan görünüm | soldan görünüm | üstten görünüm |
|---------------|-----------------|----------------|----------------|----------------|

İMT Hoca

PEKİŞTİRELİM

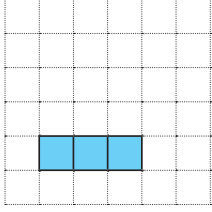


Yanda verilen yapının önden, arkadan, sağdan, soldan ve üstten görünümünü çizelim.

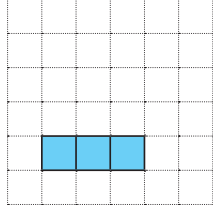
| | | | | |
|---------------|-----------------|----------------|----------------|----------------|
| önden görünüm | arkadan görünüm | sağdan görünüm | soldan görünüm | üstten görünüm |
|---------------|-----------------|----------------|----------------|----------------|

GÖRÜNÜMLERİ VERİLEN YAPİYİ OLUŞTURMA

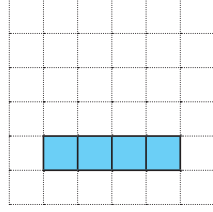
Aşağıda önden, arkadan, sağdan, soldan ve üstten görünümü verilen yapıyı izometrik kâğıda çizelim.



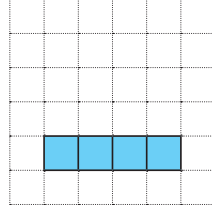
Önden



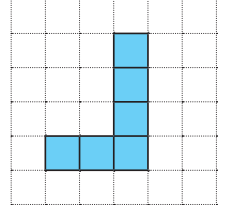
Arkadan



Sağdan



Soldan



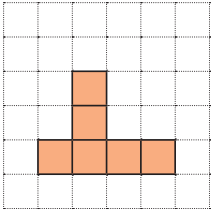
Üstten



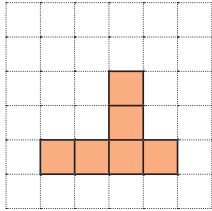
İMT Hoca

PEKİŞTİRELİM

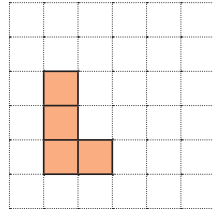
Aşağıda önden, arkadan, sağdan, soldan ve üstten görünümü verilen yapıyı izometrik kâğıda çizelim.



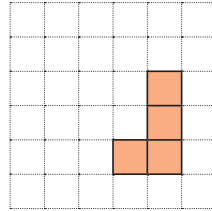
Önden



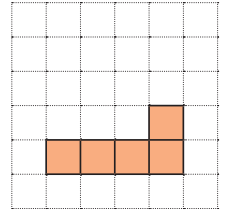
Arkadan



Sağdan



Soldan

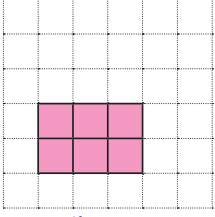


Üstten

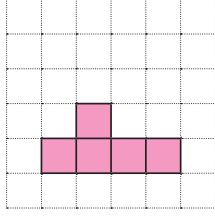


PEKİŞTİRELİM

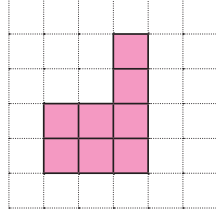
Aşağıda üç farklı yönden görünümü verilen yapıyı izometrik kâğıda çizelim.



Önden



Sağdan



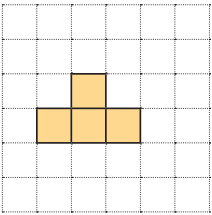
Üstten



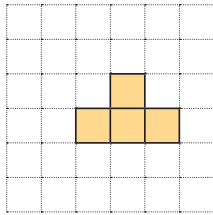
İMT Hoca

YORUMLAYALIM

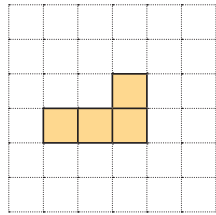
Aşağıda eş küplerle oluşturulmuş bir yapının 4 yönden görünümü çizilmiştir. Bu yapının oluşturulabilecek farklı görünümelerini çizelim.



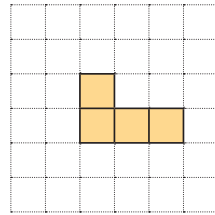
Önden



Arkadan



Sağdan



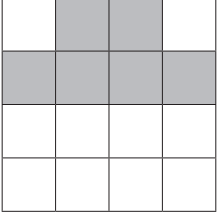
Soldan



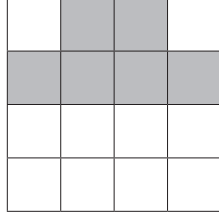
BECERİ TEMELLİ SORU

Aşağıda eş küplerle oluşturulmuş üç boyutlu bir cismin dört yönden görünümü verilmiştir.

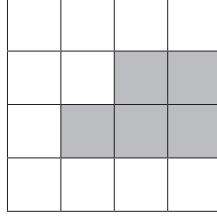
Önden Görünüm



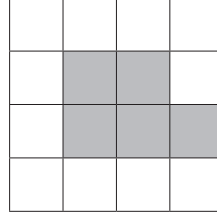
Arkadan Görünüm



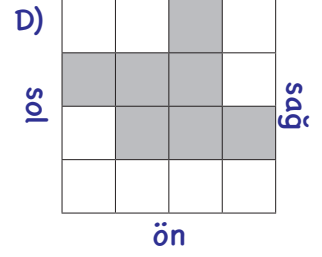
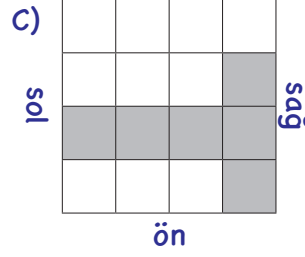
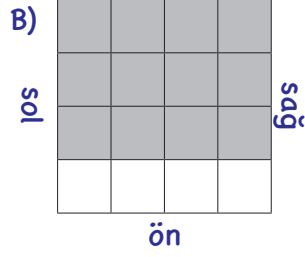
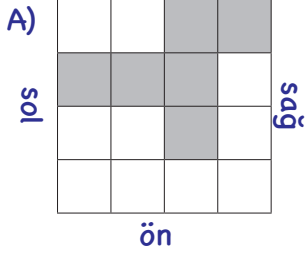
Sağdan Görünüm



Soldan Görünüm



Cismin üstten görünümü aşağıdakilerden hangisi olamaz?



İMT Hoca

SIRA SENDE

7. SINIF İMT Matematik
YENİ NESİL Soru Bankası

Sayfa 247-252

Yapabilirsin!

